



# 5 fiches gratuites

Un avant-goût des packs KidsDream : tracé, dénombrement, formes, calcul et logique pour les 3-7 ans. Imprimez et c'est parti !

 [Découvrez tous les packs sur kidsdreams.fr](https://kidsdreams.fr)

Prénom : \_\_\_\_\_

Date : \_\_\_\_ / \_\_\_\_ / \_\_\_\_



# Je trace la lettre A

Maternelle

## Je trace en majuscule



## Je trace en minuscule



## Je m'entraîne tout seul

 Avion – entoure tous les A : a · o · A · e · a · A · u · a · A · i · a · A · o · a

## Je colorie et je dessine un objet qui commence par « A »

 Dessine ici (avion, arbre, abeille...)

Prénom : \_\_\_\_\_

Date : \_\_\_\_ / \_\_\_\_ / \_\_\_\_

 **Le chiffre 3**

Maternelle

**Je trace le chiffre 3****Je m'entraîne**

Compte les étoiles, écris le nombre :



Entoure le bon nombre : 2 3 4 5

**Dessine exactement 3 ronds dans le cadre** – à toi de jouer

Prénom : \_\_\_\_\_

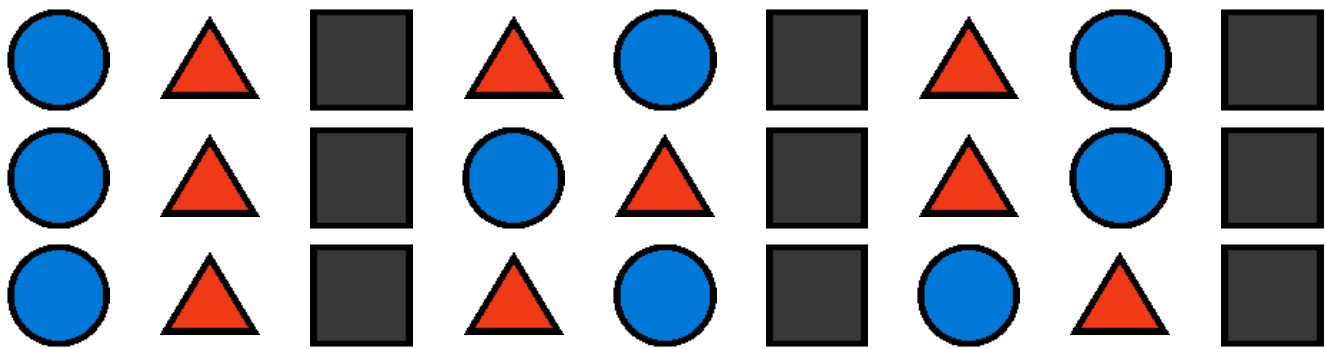
Date : \_\_\_\_ / \_\_\_\_ / \_\_\_\_



# Colorie selon le code des formes

Éveil

● Rond = orange ● Carré = bleu ● Triangle = vert



Compte : combien de ronds ● ?

Combien de triangles ▲ ?

Dessine un rond, un carré et un triangle

● ■ ▲ – dessine-les ici

Prénom : \_\_\_\_\_

Date : \_\_\_\_ / \_\_\_\_ / \_\_\_\_

# + Petites additions jusqu'à 10

CP

Calcule et écris le résultat

$2 + 1 = \square$

$3 + 2 = \square$

$4 + 1 = \square$

$5 + 2 = \square$

$3 + 3 = \square$

$6 + 1 = \square$

$4 + 4 = \square$

$2 + 5 = \square$

$7 + 2 = \square$

$5 + 5 = \square$


$6 + 3 = \square$

$1 + 8 = \square$

$4 + 3 = \square$

$8 + 1 = \square$

$2 + 7 = \square$

 Léa a 3 pommes. Papa lui en donne 2. Combien a-t-elle de pommes ?

\_\_\_\_\_

 Il y a 4 voitures rouges et 5 bleues. Combien de voitures en tout ?

\_\_\_\_\_

Dessine 6 objets puis sépare-les en 2 groupes

 Dessine ici

Prénom : \_\_\_\_\_








Date : \_\_\_\_ / \_\_\_\_ / \_\_\_\_

 Suites logiques – que vient-il après ?






Logique

Complète chaque suite


     ?


       ?

1 · 2 · 3 · 4 · ? · 6

     ?

Invente ta propre suite et dessine-la

 À toi d'inventer !

 Bravo ! Tu as terminé tes 5 fiches gratuites. Pour continuer l'aventure, découvre tous nos packs sur [kidsdreams.fr](https://kidsdreams.fr)