


MATERNELLE · 3-6 ANS



Pack Chiffres


25 fiches pour apprendre les chiffres de 0 à 10 : tracé des chiffres, dénombrement d'objets et comparaison de quantités.

0 → 10

Dénombrement

Tracé guidé

À imprimer

 KidsDream – kidsdreams.fr

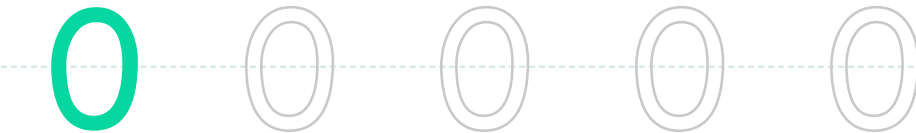
Prénom : _____

Date : ____ / ____ / ____

0

Le chiffre « zéro »

Je trace le chiffre 0



Je m'entraîne

0 – zéro (rien à compter) Compte et entoure le bon nombre

∅

Combien y en a-t-il ? Entoure :

 0 1 2

Écris le chiffre dans la case :

Dessine exactement 0 objet(s)

 Dessine 0 objet(s) ici

Prénom : _____

Date : ____ / ____ / ____

1

Le chiffre « un »

Je trace le chiffre 1



Je m'entraîne

1 – un

 Compte et entoure le bon nombre

Combien y en a-t-il ? Entoure :

1

2

3

Écris le chiffre dans la case :

Dessine exactement 1 objet(s)

 Dessine 1 objet(s) ici

Prénom : _____

Date : ____ / ____ / ____

2

Le chiffre « deux »

Je trace le chiffre 2



Je m'entraîne

2 – deux



1
2
3
4 Compte et entoure le bon nombre



Combien y en a-t-il ? Entoure : 2 3 4

Écris le chiffre dans la case :

Dessine exactement 2 objet(s)

Dessine 2 objet(s) ici

Prénom : _____

Date : ____ / ____ / ____

3

Le chiffre « trois »

Je trace le chiffre 3



Je m'entraîne

3 – trois Compte et entoure le bon nombre

Combien y en a-t-il ? Entoure :

3

4

5

Écris le chiffre dans la case :

Dessine exactement 3 objet(s)

 Dessine 3 objet(s) ici

Prénom : _____

Date : ____ / ____ / ____

4

Le chiffre « quatre »

Je trace le chiffre 4



Je m'entraîne

4 – quatre

 Compte et entoure le bon nombre

Combien y en a-t-il ? Entoure :

4

5

6

Écris le chiffre dans la case :

Dessine exactement 4 objet(s)

 Dessine 4 objet(s) ici

Prénom : _____

Date : ____ / ____ / ____

5

Le chiffre « cinq »

Je trace le chiffre 5



Je m'entraîne

5 – cinq



1
2
3
4

Compte et entoure le bon nombre



Combien y en a-t-il ? Entoure :

5

6

7

Écris le chiffre dans la case :

Dessine exactement 5 objet(s)

 Dessine 5 objet(s) ici

Prénom : _____

Date : ____ / ____ / ____

6

Le chiffre « six »

Je trace le chiffre 6



Je m'entraîne

6 – six



 Compte et entoure le bon nombre



Combien y en a-t-il ? Entoure :

6

7

8

Écris le chiffre dans la case :

Dessine exactement 6 objet(s)

 Dessine 6 objet(s) ici

Prénom : _____

Date : ____ / ____ / ____

7

Le chiffre « sept »

Je trace le chiffre 7



Je m'entraîne

7 – sept


1
2
3
4 **Compte et entoure le bon nombre**



Combien y en a-t-il ? Entoure : 7 8 9

Écris le chiffre dans la case :

Dessine exactement 7 objet(s)

Dessine 7 objet(s) ici

Prénom : _____

Date : ____ / ____ / ____

8

Le chiffre « huit »

Je trace le chiffre 8



Je m'entraîne

8 – huit



1
2
3
4 Compte et entoure le bon nombre



Combien y en a-t-il ? Entoure : 8 9 10

Écris le chiffre dans la case :

Dessine exactement 8 objet(s)

Dessine 8 objet(s) ici

Prénom : _____

Date : ____ / ____ / ____

9

Le chiffre « neuf »

Je trace le chiffre 9



Je m'entraîne

9 – neuf



1
2
3
4 Compte et entoure le bon nombre



Combien y en a-t-il ? Entoure : 0 9 10

Écris le chiffre dans la case :

Dessine exactement 9 objet(s)

Dessine 9 objet(s) ici

Prénom : _____

Date : ____ / ____ / ____

10

Le chiffre « dix »

Je trace le chiffre 10

10 10 10 10 10

Je m'entraîne

10 – dix



 Compte et entoure le bon nombre

Combien y en a-t-il ? Entoure : Écris le chiffre dans la case :

Dessine exactement 10 objet(s)

 Dessine 10 objet(s) ici